


PRACOVNÝ LIST

Ročník	Učivo
1. – 2. ročník	Geometria - rovinné útvary, trojuholník, štvorec, obdĺžnik.
3. – 4. ročník	Geometria - mnohouholníky, telesá.

Úloha 1

Poznáš Pipi Dlhú Pančuchu?
Býva vo Vile Vilôčke.
Nakresli do štvorčekovej siete časti Vily Vilôčky.
Veranda je obdĺžnik.
Strecha je trojuholník.
Dom je štvorec.



Úloha 2

Vyfarbi nakreslené časti Vily Vilôčky.
Doplň tabuľku.



	Počet strán	Dĺžky strán v milimetroch	Počet uhlov	Obvod v milimetroch
Štvorec				
Obdĺžnik				
Trojuholník				

Úloha 3

Pipi Dlhá Pančucha má vo Vile Vilôčke len okrúhle okná.
Nakresli kružnicu a kruh.



Úloha 4



Pipi Dlhá Pančucha má v izbe koberec.

Sú na ňom tieto útvary:

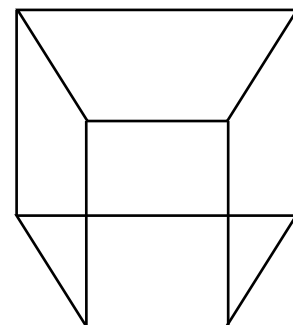
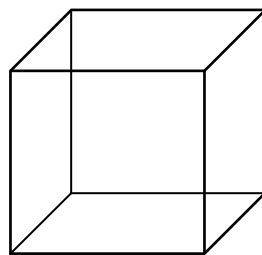
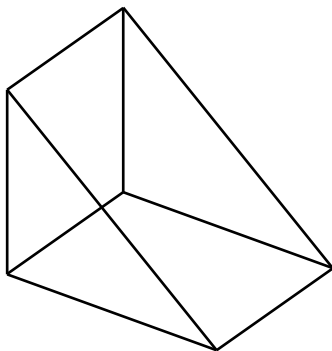
Vyfarbi útvary podľa vzoru v tabuľke.

	Trojuholník	Štvorec	Obdĺžnik	Štvoruholník	Päťuholník	Šesťuholník
Má 3 vrcholy.						
Má 4 rovnako dlhé strany.						
Má 4 uhly.						
Má párny počet strán.						
Má viac ako 2 a menej ako 4 strany.						
Má viac ako 4 vrcholy.						
Má 4 strany.						
Má nepárny počet vrcholov.						

Úloha 5



Na narodeniny dostala Pipi Dlhá Pančucha 3 darčeky.



Mohla ich rozbaľiť, len ak splnila 4 úlohy.
Pomôžeš jej?

- Modrou vyznač vrcholy na darčekom.
- Červenou vyznač hrany na darčekom.
- Ktorý darček má najmenej vrcholov?
- Žltou vyfarbi darčeky s rovnakým počtom stien.

