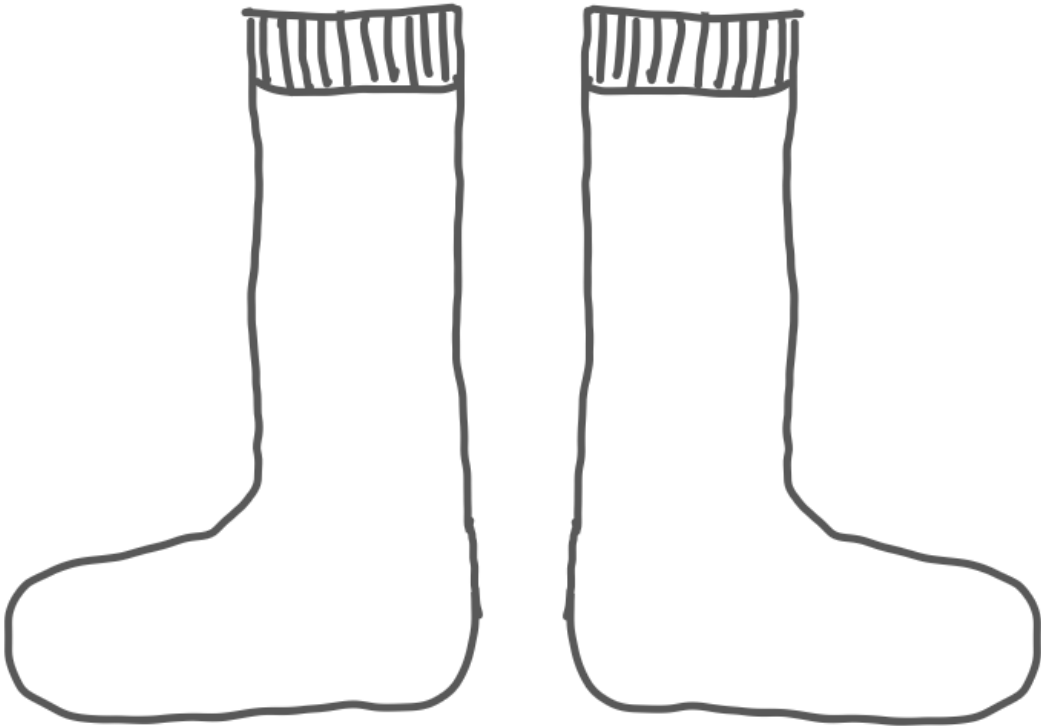


## Pracovní list - **PIPI DLHÁ PANČUCHA**

★ Pipi sa rozhodla, že si upletie podkolenky. Ozdobila ich jej obľúbenými geometrickými útvarmi: trojuholníkmi, štvorcami a obdĺžnikmi.

❖ Nakresli, ako mohli ponožky vyzerat'.



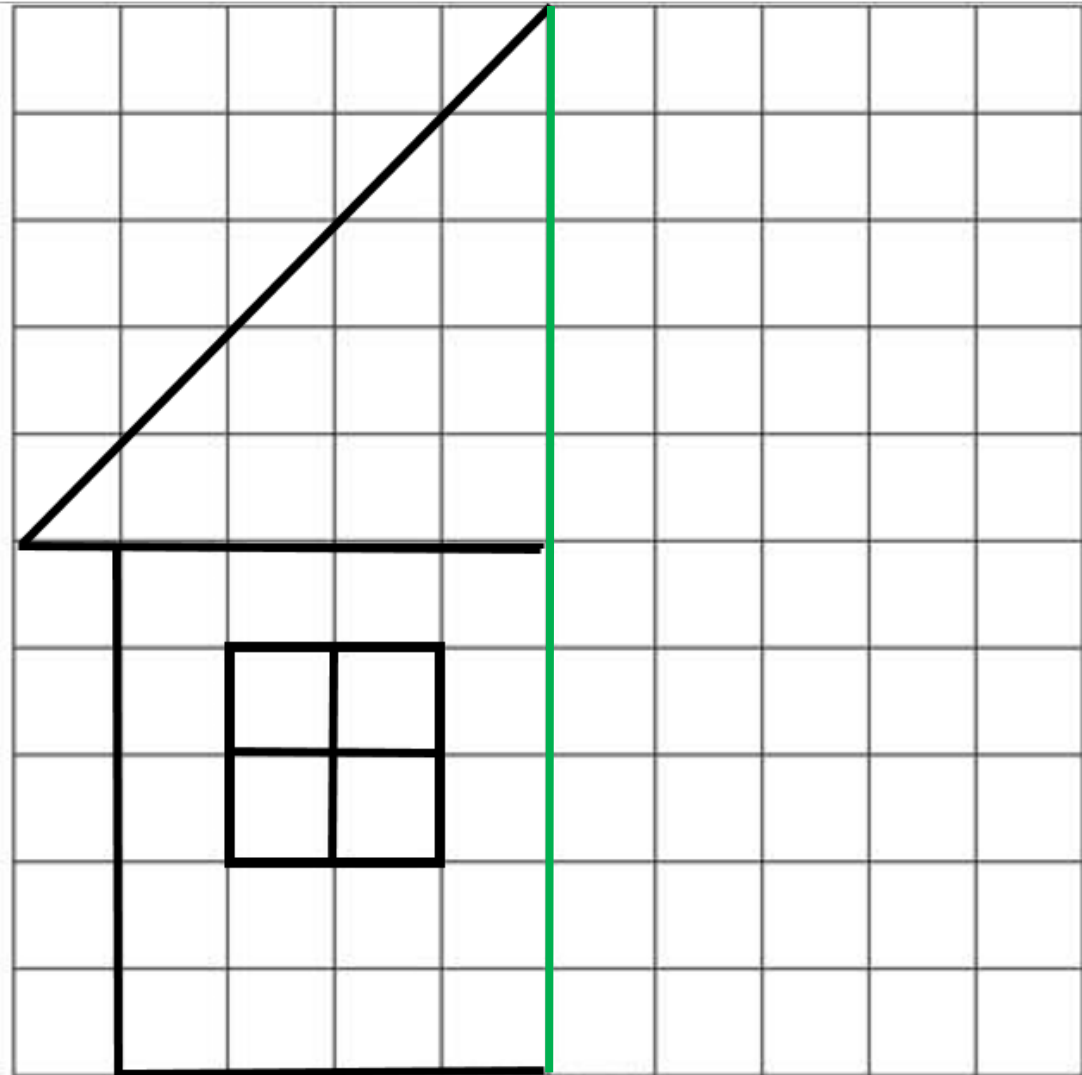
❖ Zapiš, koľko trojuholníkov, štvorcov a obdĺžnikov si použil.

△ \_\_\_\_\_ □ \_\_\_\_\_ ▭ \_\_\_\_\_

★ Nakresli štvorec, obdĺžnik a trojuholník ľubovoľnej veľkosti.

★ Pipi Dlhá Pančucha býva v domčeku spolu so svojimi kamarátmi. Pomôž jej zrkadlovo dokresliť domček podľa predlohy.

❖ Vyfarbi **trojuholník** červenou farbou, **obdĺžnik** žltou farbou a **štvorec** modrou farbou.

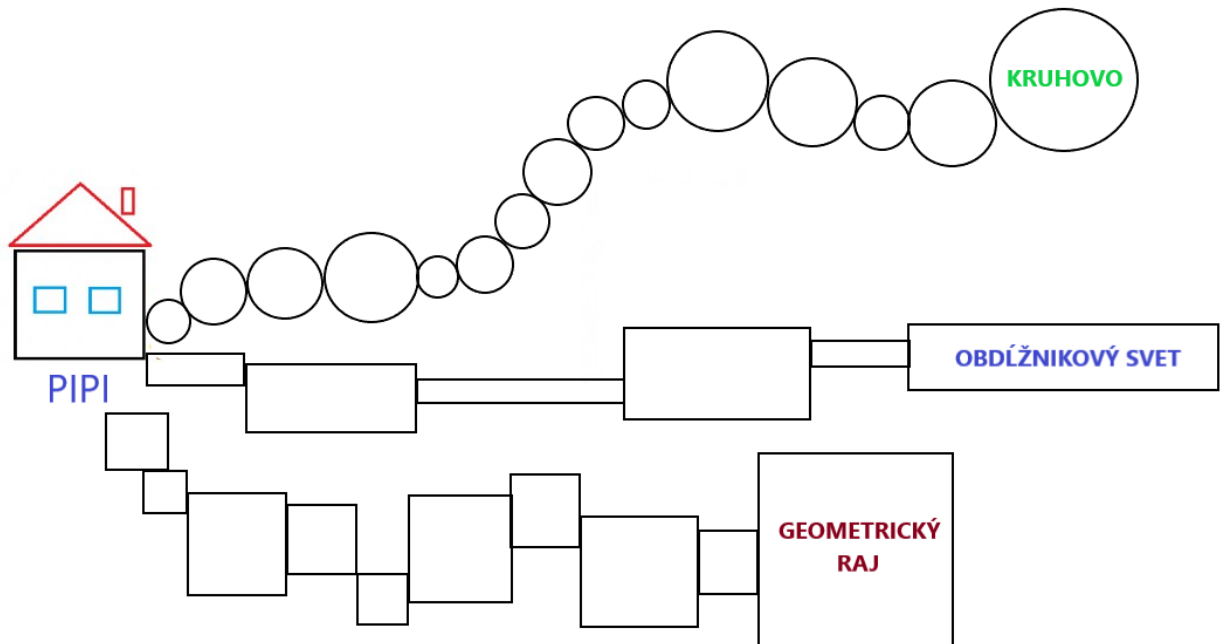


★ Priprav si fixky alebo iné rovnako dlhé pastelky. Vytvor:

- z 3 fixiek trojuholník,
- zo 4 fixiek štvorec,
- z 5 fixiek dva trojuholníky,
- zo 7 fixiek dva štvorce,
- zo 7 fixiek tri trojuholníky,
- z 12 fixiek štyri štvorce.

★ Pipi na stole našla mapu do najbližších miest.

- ❖ Pomôž jej zistiť, ktoré geometrické tvary ju privedú do Geometrického Raja.
- ❖ Spočítaj, koľko geometrických útvarov tvorí cestu do každého mesta na mape.



★ V predchádzajúcej úlohe si zistil, po ktorej ceste sa Pipi dostane do mesta Geometrický Raj. Nakresli, ako si predstavuješ toto mesto.