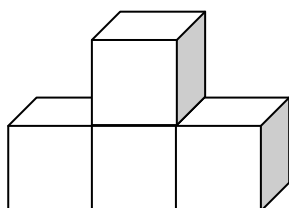


## PRACOVNÝ LIST - GEOMETRIA

### 1. ÚLOHA



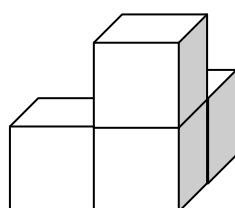
Vyfarbi stavbu z kociek tak, aby žltá kocka bola **na** modrej kocke a červená kocka bola **vpravo**.



### 2. ÚLOHA



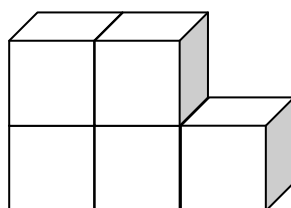
Vyfarbi stavbu z kociek tak, aby hnedá kocka bola **pod** modrou kockou a žltá kocka bola **vľavo**.



### 3. ÚLOHA



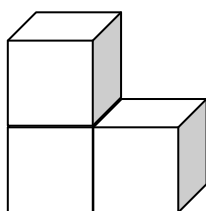
Vyfarbi stavbu z kociek tak, aby fialová kocka bola **medzi** modrou a zelenou kockou.



### 4. ÚLOHA



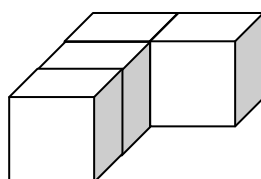
Vyfarbi stavbu z kociek tak, aby modrá kocka bola **vedľa** hnedej kocky a žltá kocka bola **na** hnedej kocke.



### 5. ÚLOHA

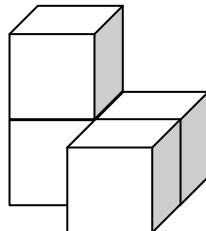


Vyfarbi stavbu z kociek tak, aby červená kocka bola **za** žltou kockou a hnedá kocka bola **vpredu**.



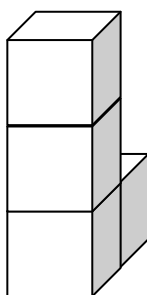
### 6. ÚLOHA

Vyfarbi stavbu z kociek tak, aby fialová kocka bola **nad** zelenou kockou a modrá kocka bola **pred** ružovou kockou.



### 7. ÚLOHA

Vyfarbi stavbu z kociek tak, aby žltá kocka bola **vzadu** a červená kocka bola **dole**.



### 8. ÚLOHA

Nakresli červený štvorec, ktorý má dvojnásobne kratšie strany ako modrý štvorec.  
Nakresli hnedý obdĺžnik, ktorý má dvojnásobne dlhšie strany ako zelený obdĺžnik.

