

## PRACOVNÝ LIST – ČAS

### 1. Pracuj podľa pokynov.

Napiš, aký je  
dnešný dátum

Zisti a napíš, v aký dátum (deň a mesiac)  
deti začínajú po prázdninách chodiť do školy.



Zisti a napíš, v ktorý deň a mesiac je  
„Štedrý večer“, keď si na Slovensku  
nájdem pod vianočným stromčekom darčeky.



Zisti a napíš, kedy máš narodeniny.



Zisti a napíš, kedy majú narodeniny  
tvoja mamička a ocko.



### 2. Do rámečkov doplň vhodné slovo.

**VČERA – DNES – POZAJTRA – ZAJTRA**













je štvrtok 12. novembra 2020.  sme mali  
matematiku. Učili sme sa najskôr sčítat' a odčítat'.  - v piatok  
nie je televízne vysielanie. Víkend začína už  . HURÁÁÁ ☺



**3. Koľko trvajú aktivity? Prirad' k aktivite časový úsek podľa vzoru tak, že ich spojiš čiarou.**

Od pondelka do nedele budem u starých rodičov, lebo máme prázdniny.	rok
Moja setra Evka je na svete už 12 mesiacov. Dnes oslavuje prvé narodeniny.	mesiac
Sekundová ručička starých hodín prejde od 12 po 12.	týždeň
Vždy sa teším na piatok. Po ňom nasleduje víkend a ja si trochu oddýchnem od školy.	deň
V septembri nám začína škola. Zvykáme si na pracovný režim.	hodina
Už len 60 minút a máme tu nový rok.	minúta

**4. Zorad' obrázky tak, ako nasledujú činnosti zobrazené na nich počas dňa.**

➤ Prirad' časti dňa, v ktorých sa činnosti najčastejšie odohrávajú:

RÁNO – PREDPOLUDNIE – OBED – POPOLUDNIE – VEČER – NOC

➤ Dokresli do ciferníka čas (hodinové ručičky), kedy zvyčajne činnosti vykonávaš.

## 5. Sleduj plynutie času.

Odmeraj čas potrebný na presypanie surovín zo šálky do fľaše.

### Budeš potrebovať:

4 rovnaké fľaše alebo poháre, 1 lievnik,  
1 šálku cukru, 1 rovnakú šálku šošovice,  
1 rovnakú šálku krupice, 1 rovnakú šálku vody.

### Postupuj nasledovne:



1. Vlož lievnik do prvej fľaše. Vysyp šálku s cukrom do lievika a odmeraj čas, za ktorý sa presype cukor do fľaše (čas môžeš merať s pomocou mobilu alebo jednoducho počítaj od jedna do...). Čas si zapíš.

Cukor:

2. Vlož lievnik do druhej fľaše. Vysyp šálku so šošovicou do lievika a odmeraj čas, za ktorý sa presype šošovica do fľaše. Čas si zapíš.

Šošovica:

3. Vlož lievnik do tretej fľaše. Vysyp šálku s krupicou do lievika a odmeraj čas, za ktorý sa presype krupica do fľaše. Čas si zapíš.

Krupica:

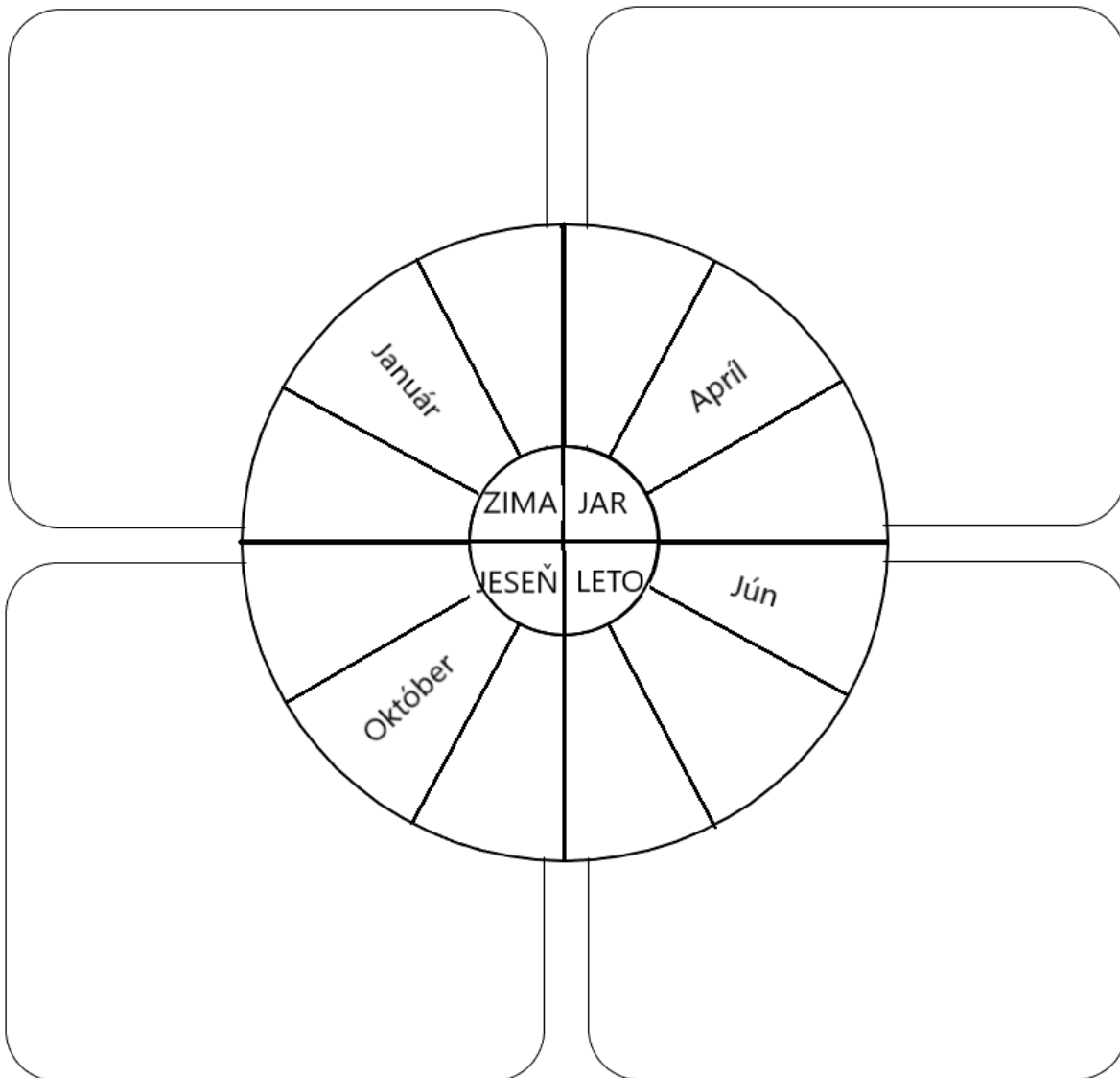
4. Vlož lievnik do štvrtej fľaše. Vylej šálku s vodou do lievika a odmeraj čas, za ktorý sa preleje voda do fľaše. Čas si zapíš.

Voda:

### Zistené údaje zapíš do tabuľky:

Surovina	Čas, za ktorý prešla surovina cez lievnik do fľaše	Označ poradie plynutia času od najrýchlejšieho po najpomalší číslami 1 – 4
Cukor		
Šošovica		
Krupica		
Voda		

**6. Do častí kruhu dopiš chýbajúce mesiace.**



- **Do prázdnych okienok dokresli typickú prírodu na Slovensku v jednotlivých ročných obdobiach.**